

2015年度

新聞検定



しんけん君

新聞検定の特長とメッセージ



この新聞検定は、みなさんの記憶量を試すテストと異なり、実際に新聞本紙を読みながら答える、新しいスタイルの検定です。ほとんどの問題は、しっかり新聞を読んで、よく考えれば答えが出せます。安心して取り組んでください。また、この検定を受けること自体が、これからの新聞の読み方のかく得につながり、自分を高めていくきっかけになります。さあ、一緒にがんばりましょう。

注意事項


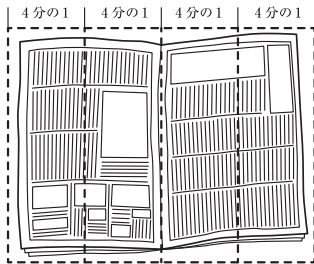
1. 「はじめ」の指示があるまでは、問題用紙を開かないでください。
2. 答えはすべて解答用紙に記入します。マークをぬる問題と答えを書く問題があります。マークをぬるときは、問題番号をよくたしかめましょう。
3. 問題用紙は5ページまであります。ページがぬけているところや、よく読めないところがある場合は、手をあげてください。
4. 気分が悪い、寒いなど何か困ったことがあったら、手をあげてください。
5. 答えを書くときに、まだ学校で習っていないなど難しい場合は、ひらがなで書いてください。
6. 検定終了後は、解答用紙だけ提出して、新聞本紙と問題用紙は持ち帰ってください。

新聞をうまくひらくコツ

■ 必要なページを見つけたら、半分に折り返してから読む。

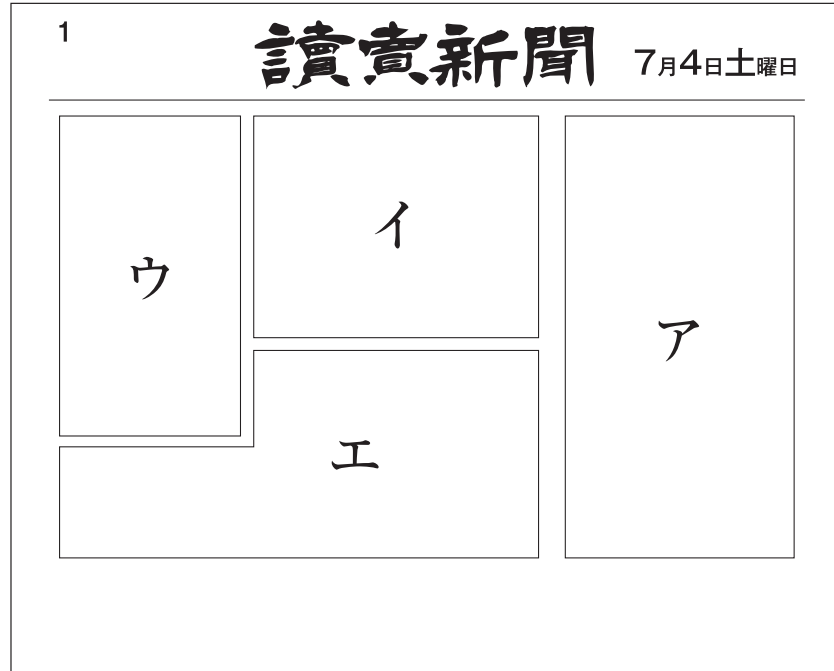


■ 4分の1のところまで折りながら、ページをめくっていく。



^{となり}お隣の人^{たが}が近い場合、お互いに気をつけながら
気持ちよく検定を受けられるようにしましょう。

- 1** 新聞には、読んでいくためのコツがあります。新聞の構成(レイアウト)や見出し、記事の構成など新聞独自のしくみを知ること、より身近なものになります。新聞の1面を見てみましょう。



新聞の大きな特長の一つは、ニュースが重要度^{したが}に従って配置されていることです。ニュースによって見出しの大きさや配置が決められています。では、この日、読売新聞が最も重要だと判断^{ほんだん}した記事を上のア～エから一つ選んでください。

- 2** 1面に載^のっている記事の説明として、正しいものを次のア～エから一つ選んでください。

- ア 全国の年金事務所は個人情報^{じ む し ょ こ じ ん じ ょ う ほう}が流出した後の調査^{ち ょ う さ}で、日本年金機構^{き ゃ ん ぎ 構}に虚偽^{き ゃ ん ぎ}の報告をしていた。
- イ ギリシャでは、市民による落書き^{お ち び づ け}が増えたせいで、生活に大きな影響^{え い き ょ う}が及ぶ問題^{お び や け}になっている。
- ウ 与党^{よ と う}は安保関連法案^{あ ん ぽ かん げん ほう 案}の採決日程^{さい けつ に つ い て い}を決めようとしているが、野党^{の とう}は審議^{し ん ぎ}の継続^{け い ぞ く}を求めている。
- エ 首相^{し ゃ う}は、外務省^{き た ち ょ う せ ん}が実施^{じ し}した北朝鮮拉致問題^{きた ち ょ う せ ん ら ち}に対する調査の結果を、早く報告するよう求めた。

3 1面中央にギリシャの様子を表した写真が載っています。

(1) ポスターに落書きされた「OXI」の文字の意味を、次のア～エから一つ選んでください。

- ア 国民投票をすることに賛成さんせいだという意味。
- イ 国民投票をすることに反対だという意味。
- ウ EUの構造改革案こうぞう かいかくを受け入れることに賛成だという意味。
- エ EUの構造改革案を受け入れることに反対だという意味。

4 (2) この写真に関係する記事が載っていないのは、何面ですか。次のア～エから一つ選んでください。

- ア 2面 イ 7面 ウ 15面 エ 31面

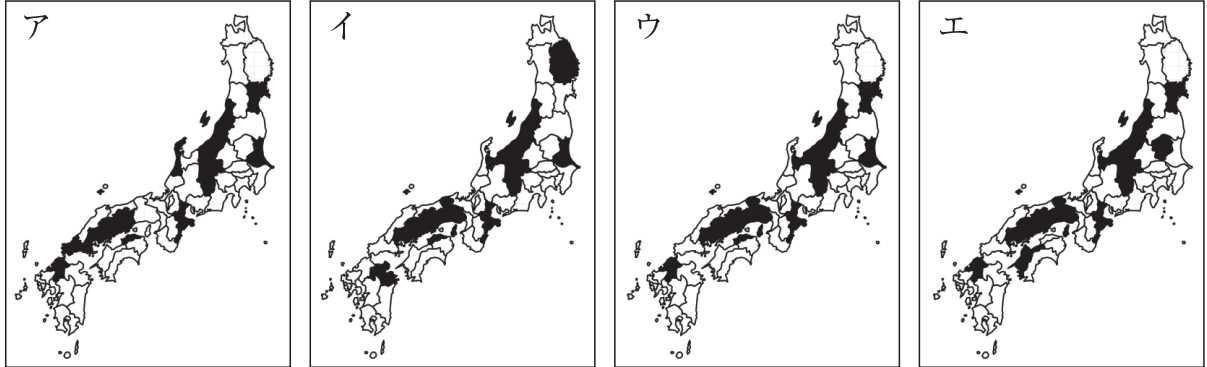
5 1面の「安保法案 採決日程詰め」の記事を読んだAさんは、この記事に関連したテレビ番組を番組面(32面)で探して、その番組を見てみました。Aさんが見た番組の放送局と開始時間を、次のア～エから一つ選んでください。

- ア フジテレビ 午後5時30分
- イ テレビ東京 午後5時30分
- ウ 日本テレビ 午前8時
- エ NHK 午後9時

6 7月3日の金曜日は、定例の閣議かくぎが開かれた日でした。2面「安倍首相の一日」から、閣議かくぎが始まった時刻じこくは何時何分だとわかりますか。次のア～エから一つ選んでください。

- ア 7時5分
- イ 8時14分
- ウ 8時29分
- エ 8時36分

7 2・3面「^{そうごう}総合」からの出題です。2016年の伊勢志摩サミットの^{いせしま}首脳・^{しゅのう かくりょう}閣僚会合が開かれる11県を正しく示している図を、次のア～エから一つ選んでください。



8 次のA～Dは、26面「列島Weekly47」に掲載している^{けいさい}地域ニュースの^{ちいき}見出しをとりあげたものです。A～Dの記事の見出しは、それぞれどの都道府県のものでしょうか。正しい組み合わせを、あとのア～エから一つ選んでください。

- A 金沢駅にキリコ ^{の と}能登の祭りPR
- B モクゲンジ10年目の開花 ^{つしま}対馬
- C ^{ぜんこうじ}善光寺で^{え こうばしら}回向柱お納め式 ^{おさ}御開帳行事終了
- D 「^{せ と}瀬戸大橋アンパンマントロッコ号」10万人突破 ^{とつば}

	A	B	C	D
ア	石川	長崎	山梨	愛媛
イ	福井	佐賀	長野	愛媛
ウ	石川	長崎	長野	香川
エ	福井	佐賀	山梨	香川

9 6面右上に「レンガ盗難 消えゆく長^{ちやうじやう}城」とありますが、これは中国の世界文化遺産「万里の長城」が消失していることを表しています。「万里の長城」が消失している理由として正しくないものを、次のア～エから一つ選んでください。

- ア 長い年月、風雨にさらされたから。
- イ 地元の人たちが家を建てるために、長城のレンガを盗^{ぬす}んでいたから。
- ウ 観光客がおみやげにするために、長城のレンガを盗^{ぬす}んでいたから。
- エ 観光用の施^{しせつ}設を作るために乱開^{らん}発したから。

10 14面右上「高校生に地域貢^{こうけん}献の意^い識^{しき}」の記事についての説明で、正しくないものを次のア～エから一つ選んでください。

- ア この教育は、高校生の地域貢^{こうけん}献への意^い識^{しき}を高めるためのものだ。
- イ この教育は、広がってはいるが、まだ全国的な実施率が高いとは言えない。
- ウ この教育は、高校生に地元で働いてもらうことが目的である。
- エ この教育は、高校生に地元の大学に進学してもらうことが目的である。

11 27面右側に「五輪への道 始動⑤」の記事があります。そこに「2020年の東京が目指^{すいそ}す水素社会の未来予想図」というイラストが載っています。その説明として正しいものを、次のア～エから一つ選んでください。

- ア 「水素スタンド」は現在都内には存在^{そんざい}しないが、2020年には35か所が設置^{せつち}される予定だ。
- イ 「水素水上バス」と「水素屋形船^{やかた}」に「？」がついているのは、必要ないという意見があるからだ。
- ウ 「選手村」では、温水供給^{きやうきゆう}や冷暖房^{れいだんぼう}、照明などの電力源^{げん}として水素が利用されるということも検討^{けんとう}されている。
- エ 水素貯蔵^{ちやうぞう}タンクも小さく軽く安全になり、海外で製造^{せいぞう}された水素を飛行機で「空港」まで運べるようになる。


12 文化面(21面)からの出題です。次のア～エのことがらから、最も年代が古いものを一つ選んでください。

- ア RPG「ドラゴンクエスト」が発売される
- イ ソニーがプレイステーションを発売する
- ウ 任天堂がファミリーコンピュータを発売する
- エ RPG「ファイナルファンタジー」が発売される

13 この写真は、何面にありましたか。数字(ページ)を答えてください。



14 これは高野山金剛峯寺所蔵の重要文化財「両界曼荼羅図」を復元した「平成再生版」です。いつから公開予定ですか。日付を答えてください。



15 1面に「英語でひとこと 探せ! ポケモン」の企画があります。実際に探して、この日のひとことを、英語または英語のカタカナ表記で解答欄に記入してください。

お疲れ様でした。問題は以上です。退出時間まで問題を見直す、新聞を読むなどして時間をご活用ください。

読売新聞

2015年度

新聞検定



主催：読売新聞東京本社

共催：学研グループ・市進教育グループ
